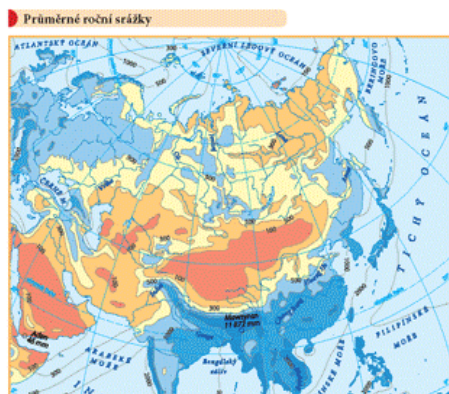


# Školní atlas světa

- fyzické a obecně zeměpisné mapy
- politické a administrativní mapy

AFRICA





1. Vysvětlivky
2. Vesmír
3. Svět
4. Evropa
5. Asie
6. Afrika
7. Amerika
8. Austrálie a Oceánie
9. Polární oblasti, oceány
10. Tabulky států
11. Geografické tabulky
12. Ukázky map a měřítek
13. Mapová zobrazení
14. Rejstřík

**Obsah atlasu:**  
 „Opiš si obsah a podtrhni stejnou barvou jako je v atlase“



- Sídla a obyvatelstvo
- Názvy státních útvarů
- Názvy fyzicko-geografických celků
- Značka jeskyně ...
- Značka letiště ...
- Přístav ...

Vysvětlivky /zadní  
předsádka/



## ČASOVÁ PÁSMÁ (přední předsádka)

Pásmový čas /1 hodina/ soubor místních časů, 15° kolem daného poledníku, používající stejný čas.

- Základním časovým pásmem je okolí nultého poledníku Londýn, Anglie. **Greenwichský čas (dnes označován UTC).**
- Ostatní časová pásma jsou popsána rozdílem počtu hodin, o které se v nich platný čas liší (+) východ (-) západ.
- Z praktických důvodů se tvary časových pásem přizpůsobují hranicím států.

# Uvnitř Atlasu

podrobné obecně zeměpisné mapy, doplněné o rozšiřující tematické mapy.

- Fyzická mapa

- srážky
- vegetační pásma
- historické mapy

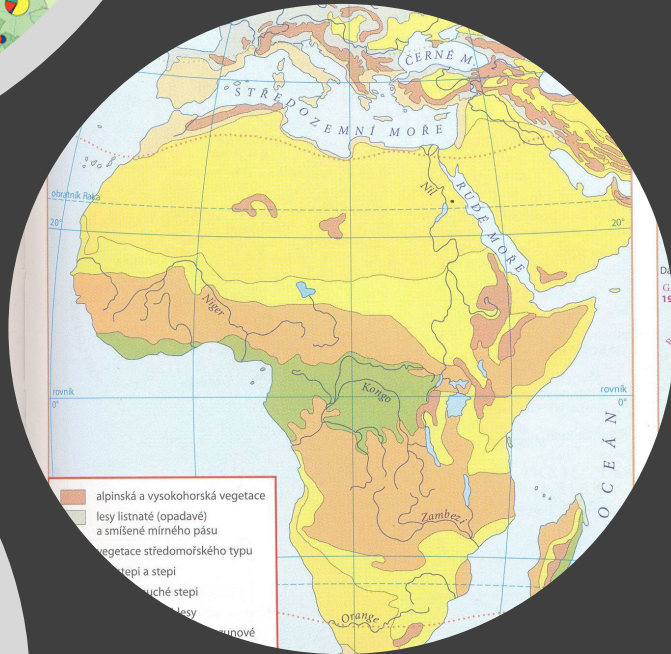
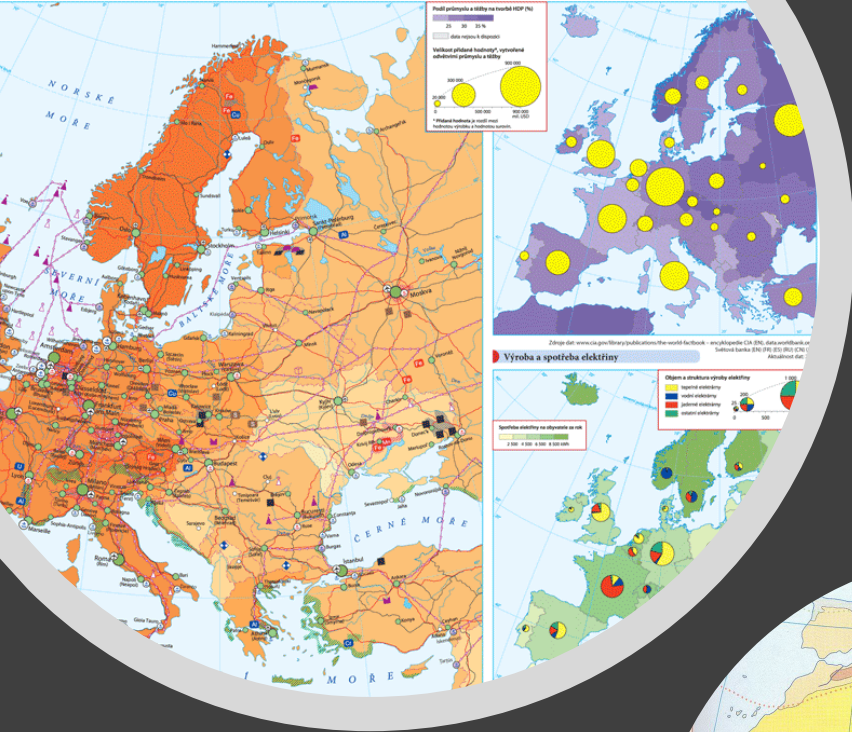
- Politická mapa

- zalidnění
- vzdělání
- přírůstky obyvatel, zdravotnictví

- Hospodářství

- Zemědělství

- Obecně zeměpisná mapa



# SP: Práce s atlasem

1. rozloha Maďarska .....
2. počet obyvatel Ukrajiny .....
3. hlavní město Zambie .....
4. největší aglomerace světa .....
5. čtvrtý největší ostrov světa .....
6. na jaké řece leží největší vodopád světa .....
7. kolikátá je podle délky toku řeka Volha .....
8. Nejvyšší hora Evropy .....
8. nakresli značku města s počtem obyvatel 1-5mil.....
9. největší jezero v Evropě .....
10. nakresli značku oázy ...

# **Práce s rejstříkem**

Pomůcka pro hledání místa, řeky,  
hory, státu .....

**SP: Ve kterých světadílech se nachází tato místa, napiš zda jde o řeku, město, horu, stát, či něco jiného?**

Brandon

David

Guinea Bissau

Falklandy

Neckar

Kule

Sinaj



# SP: Práce s rejstříkem - řešení

Brandon 126 E 7,8 - Severní Amerika - město

David 127 I 9 - Severní Amerika - město

Guinea Bissau 102 D 2 – Afrika stát

Falklandy 117 I Jižní Amerika -závisle území VB

136 D,E 31 – J. Amer. – ostrovy

Neckar 66 D5 Evropa – řeka

Kule 109 D5 – oáza - Afrika

Sinaj 100 7C Afrika - poloostrov